



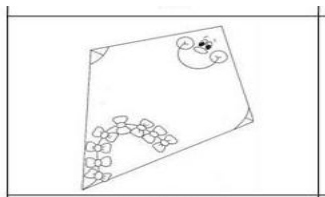
**INSTITUCIÓN EDUCATIVA MARCELIANA SALDARRIAGA**  
Formando ciudadanos dignos en el ser, el saber y el hacer



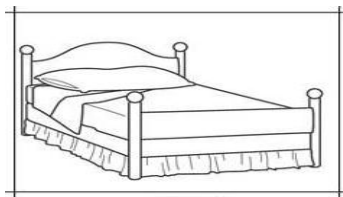
**PLAN DE MEJORAMIENTO**

ÁREA	Lengua Castellana	GRADO		Primero	
DOCENTE(S)	Mónica Janeth Chica González, María Adoralis Arias Vallejo, Natalia Quinto Martínez, Gloria Cecilia Restrepo.	PERÍODO	2	AÑO	2019
ESTUDIANTE				GRUPO	

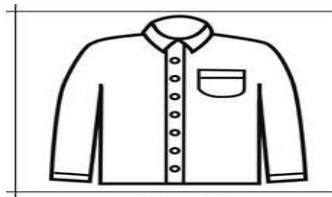
1. Escribe el nombre correspondiente a cada dibujo.



\_\_\_\_\_



\_\_\_\_\_



\_\_\_\_\_

2. Encierra con color rojo el nombre de cada imagen.

cama  
rama



ratón  
corazón



rana  
cana



3. Comprensión de lectura. Responde las preguntas de acuerdo a lo leído

**Noa y Hugo**

Noa y Hugo son hermanos. Hoy han ido al zoo con sus padres, el animal que más les ha gustado ha sido los leones.

1- INSTRUCCIONES: Contesta a las preguntas tachando el recuadro correcto

1. A Noa y Hugo les gusta...

Los leones

Las cebras

Los pingüinos

2. Noa y Hugo son...

Primos

Amigos

Hermanos

3- INSTRUCCIONES: Enumera la secuencia con 1, 2 y 3



**INSTITUCIÓN EDUCATIVA MARCELIANA Saldarriaga**  
*Formando ciudadanos dignos en el ser, el saber y el hacer*



**PLAN DE MEJORAMIENTO**

ÁREA	Matemáticas	GRADO		Primero	
DOCENTE(S)	Mónica Janeth Chica González, María Adoralis Arias Vallejo, Natalia Quinto Martínez, Gloria Cecilia Restrepo.	PERÍODO	2	AÑO	2019
ESTUDIANTE				GRUPO	

**LEE ATENTAMENTE**

Hoy es el inicio del año escolar, por ello la profesora Pilar, del grado 2°, organizo un compartir de bienvenida.

1. Después del compartir, la profesora Pilar preguntó a los niños que sabor de galleta gustó: más.

- 6 estudiantes prefieren galletas de fresa
- 3 estudiantes prefieren galletas de chocolate.
- 7 estudiantes prefieren galletas de vainilla.

**Pinta los recuadros de acuerdo a los sabores de galletas que gustaron más a los niños y niñas.**


**FRESA**


**CHOCOLATE**


**VAINILLA**

2. Coloque el signo > (mayor), < (menor) o = (igual), según corresponda

Número	Signo	Número
102		55
32		90
59		72
83		110
91		64

3. Realiza las siguientes adiciones y sustracciones

$$\begin{array}{r} + 151 \\ 236 \\ \hline \end{array}$$

$$\begin{array}{r} + 513 \\ 382 \\ \hline \end{array}$$

$$\begin{array}{r} 799 \\ - 457 \\ \hline \end{array}$$

$$\begin{array}{r} 796 \\ - 214 \\ \hline \end{array}$$



**INSTITUCIÓN EDUCATIVA MARCELIANA SALDARRIAGA**  
*Formando ciudadanos dignos en el ser, el saber y el hacer*



**PLAN DE MEJORAMIENTO**

ÁREA	Ciencias Naturales	GRADO		Primero	
DOCENTE(S)	Mónica Janeth Chica González, María Adoralis Arias Vallejo, Natalia Quinto Martínez, Gloria Cecilia Restrepo.	PERÍODO	2	AÑO	2019
ESTUDIANTE				GRUPO	

1. Une con una línea el alimento que corresponde a cada ser vivo



2. Escribe en cada cuadro una N si la fuente de luz es Natural y una A, si es artificial.



¿Empujar o tirar?

3. Marca con X la imagen donde se observa la acción de empujar





**INSTITUCIÓN EDUCATIVA MARCELIANA SALDARRIAGA**  
*Formando ciudadanos dignos en el ser, el saber y el hacer*




**PLAN DE MEJORAMIENTO**

ÁREA	Ciencias Sociales	GRADO	Primero		
DOCENTE(S)	Mónica Janeth Chica González, María Adoralis Arias Vallejo, Natalia Quinto Martínez, Gloria Cecilia Restrepo.	PERÍODO	2	AÑO	2019
ESTUDIANTE				GRUPO	

1. Marca con X la imagen que representa la división política de Itagüí



2. Marca con X la imagen que representa un volcán.



3. Marca con X la imagen que representa la afrocolombianidad





**INSTITUCIÓN EDUCATIVA MARCELIANA SALDARRIAGA**  
*Formando ciudadanos dignos en el ser, el saber y el hacer*



**PLAN DE MEJORAMIENTO**

ÁREA	Lengua Extranjera	GRADO	Primero		
DOCENTE(S)	Mónica Janeth Chica González, María Adoralis Arias Vallejo, Natalia Quinto Martínez, Gloria Cecilia Restrepo.	PERÍODO	2	AÑO	2019
ESTUDIANTE			GRUPO		

1. Encierra el número que corresponde en cada imagen.

7 9 4	3 2 6	8 5 9

2. Une mediante líneas de colores los gráficos con su correcto miembro de la familia

BROTHER	SISTER	FATHER	MOTHER	GRANNY	BABY

3. Colorea cada estrella del color indicado
